

Γεωμετρία Α' Γενικού Λυκείου

Απαντήσεις στα θέματα της Τράπεζας Θεμάτων

(2851, 3423, 5124, 5608, 5612, 5613, 5615, 5617, 5619, 5621, 5623, 5626, 5628, 5630, 5633, 5634, 5637, 5638, 5641, 5644, 5646, 5647, 5652, 5653, 5654, 5733, 6002, 6580, 6582, 6583, 6584, 6585, 6587, 6588, 6590, 6592, 6593, 6595, 6882, 6885, 6886, 7452, 7453)

Συγγραφή απαντήσεων: Αθανάσιος Τσιούμας

Χρησιμοποιήστε τους σελιδοδείκτες (bookmarks) στο αριστερό μέρος της οθόνης για την πλοήγηση μέσα στο έγγραφο.

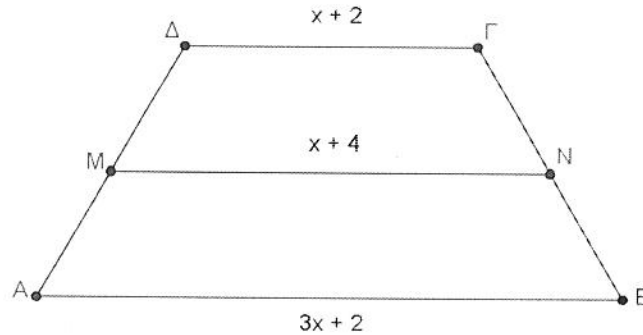
Copyright© για τις απαντήσεις των θεμάτων
Σ. Πατάκης ΑΕΕΔΕ (Εκδόσεις Πατάκη), Αθήνα, 2014



ΘΕΜΑ 2

Δίνεται ισοσκελές τραπέζιο $AB\Gamma\Delta$ με $AB \parallel \Gamma\Delta$, $AB > \Gamma\Delta$ και $AD = \beta\Gamma$.

- α) Αν τα μήκη των βάσεων είναι $AB = 3x + 2$, $\Gamma\Delta = x + 2$ και το μήκος της διαμέσου του τραpezίου είναι $MN = x + 4$, τότε να δείξετε ότι $x = 2$.
(Μονάδες 12)
- β) Αν η γωνία $\hat{\Gamma}$ είναι διπλάσια της γωνίας $\hat{\beta}$, να υπολογίσετε τις γωνίες του τραpezίου.
(Μονάδες 13)



Λύση

α) Το μήκος της διαμέσου του τραpezίου $AB\Gamma\Delta$ είναι:

$$MN = \frac{AB + \Delta\Gamma}{2} \Leftrightarrow x + 4 = \frac{3x + 2 + x + 2}{2} \Leftrightarrow 2x + 8 = 4x + 4 \Leftrightarrow$$

$$2x = 4 \Leftrightarrow x = 2$$

β) Έχουμε $\hat{\Gamma} = 2\hat{\beta}$ και $\hat{\Gamma} + \hat{\beta} = 180^\circ$ (ως εντός και επί τα αυτά μέρη)

$$\text{άρα } 2\hat{\beta} + \hat{\beta} = 180^\circ \Leftrightarrow 3\hat{\beta} = 180^\circ \Leftrightarrow \hat{\beta} = 60^\circ \text{ οπότε } \hat{\Gamma} = 2 \cdot 60^\circ = 120^\circ$$

Επειδή το τραπέζιο είναι ισοσκελές έχουμε:

$$\hat{A} = \hat{\beta} = 60^\circ \text{ και } \hat{\delta} = \hat{\Gamma} = 120^\circ.$$

ΘΕΜΑ 2

Δίνεται ορθογώνιο τρίγωνο $AB\Gamma$ ($\hat{A} = 90^\circ$) και BD η διχοτόμος της γωνίας \hat{B} . Από το D φέρουμε $DE \perp B\Gamma$, και έστω Z το σημείο στο οποίο η ευθεία ED τέμνει την προέκταση της BA (προς το A).

Να αποδείξετε ότι:

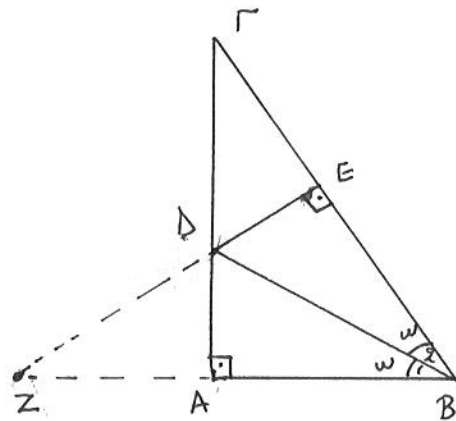
α) $AB=BE$

(Μονάδες 13)

β) Τα τρίγωνα $AB\Gamma$ και ZEB είναι ίσα.

(Μονάδες 12)

Λύση



α) Τα τρίγωνα ABD και

BDE έχουν:

• $\hat{A} = \hat{E} = 90^\circ$

• BD : κοινή

• $\hat{B}_1 = \hat{B}_2 = \omega$

άρα είναι ίσα, οπότε $AB=BE$

β) Τα τρίγωνα $AB\Gamma$ και ZEB έχουν:

• $\hat{A} = \hat{E} = 90^\circ$

• \hat{B} : κοινή

• $AB=BE$ από το α)

επομένως $\triangle AB\Gamma = \triangle ZEB$

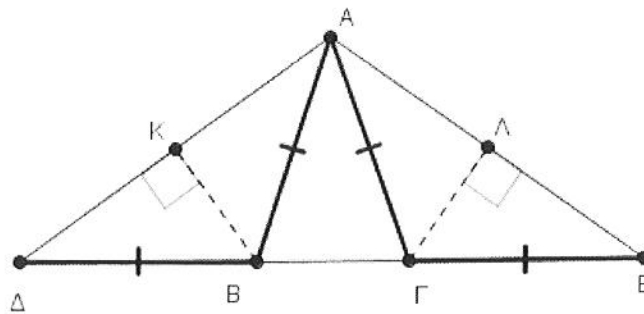
ΘΕΜΑ 2

Στο ακόλουθο σχήμα ισχύουν $AB=BD=AG=GE=5$, $BK \perp AD$ και $GL \perp AE$.

α) Να προσδιορίσετε, ως προς τις πλευρές, το είδος των τριγώνων ABD και AGE . Να αιτιολογήσετε την απάντησή σας. (Μονάδες 6)

β) Να αποδείξετε ότι τα σημεία K και L είναι τα μέσα των τμημάτων AD και AE αντίστοιχα. (Μονάδες 10)

γ) Αν η περίμετρος του τριγώνου ABG είναι 12, να υπολογίσετε το τμήμα KL . (Μονάδες 9)



Λύση

α) Επειδή $BD=BA$ το τρίγωνο ABD είναι ισοσκελές ομοίως και το τρίγωνο AGE είναι ισοσκελές αφού $GA=GE$

β) Η BK είναι ύψος του ισοσκελούς τριγώνου BAD άρα θα είναι και διάμετρος οπότε K το μέσο του AD , ομοίως L το μέσο του AE αφού $\triangle AGE$ ισοσκελές και $GL \perp AE$.

γ) Αφού K, L τα μέσα των AD και AE αντίστοιχως θα έχουμε

$$KL = \frac{DE}{2} = \frac{DB + BG + GE}{2} = \frac{BA + BG + AG}{2} = \frac{12}{2} = 6 \quad \left(\begin{array}{l} \text{Είναι } DB=BA \\ \text{και } GE=AG \end{array} \right)$$

ΘΕΜΑ 2

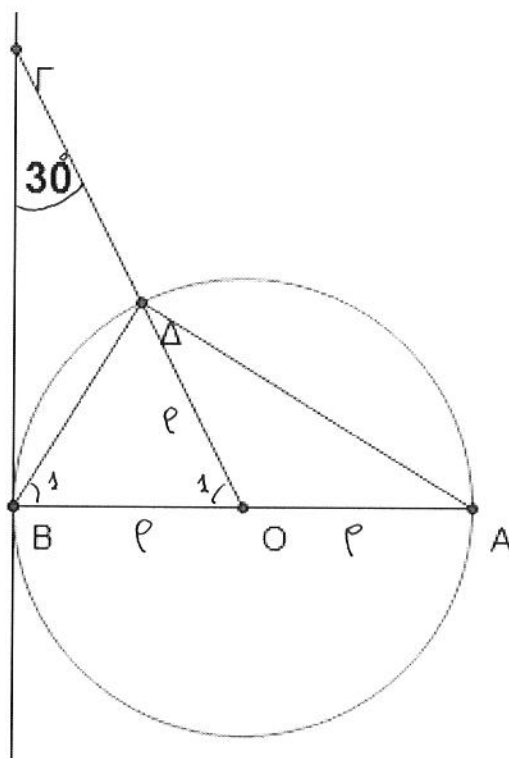
Θεωρούμε κύκλο (O, ρ) και διάμετρό του AB . Στην εφαπτομένη του κύκλου στο B θεωρούμε σημείο Γ τέτοιο ώστε, η γωνία BGO να είναι ίση με 30° . Αν η OG τέμνει τον κύκλο στο Δ να αποδείξετε ότι:

α) $OG = 2OA$.

(Μονάδες 12)

β) $B\Gamma = A\Delta$.

(Μονάδες 13)



Λύση

α) Αφού ΓB εφαπτομένη του κύκλου θα είναι $\Gamma B \perp BA$ οπότε στο ορθόγυιο τρίγωνο BGO θα έχουμε:

$$OB = \frac{OG}{2} \Leftrightarrow OG = 2OB = 2\rho = 2OA$$

β) Επειδή $\hat{O}_1 = 90^\circ - 30^\circ = 60^\circ$ το ισοσκελές τρίγωνο $BO\Delta$ θα είναι ισοήμιονο άρα $\hat{B}_1 = 60^\circ$

Τα τρίγωνα $BO\Gamma$ και $AB\Delta$ έχουν:

- $\hat{\Gamma}BO = \hat{B}\Delta A = 90^\circ$ ($B\Delta A$ εγγεγραμμένη σε ημικύκλιο)

- $\hat{B}_1 = \hat{O}_1 = 60^\circ$

- $B\Delta = BO = \rho$

επομένως είναι ίσα, οπότε $B\Gamma = A\Delta$

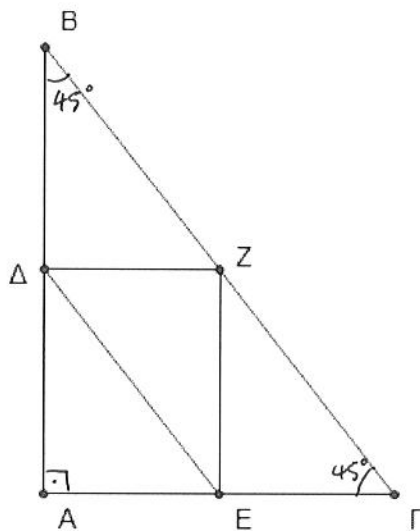
ΘΕΜΑ 2

Σε ορθογώνιο και ισοσκελές τρίγωνο $AB\Gamma$ ($\hat{A} = 90^\circ$) θεωρούμε τα μέσα Δ , E και Z των πλευρών του AB , $A\Gamma$ και $B\Gamma$ αντίστοιχα.

Να αποδείξετε ότι:

α) Το τετράπλευρο $AEZ\Delta$ είναι ορθογώνιο παραλληλόγραμμο. (Μονάδες 12)

β) Το τετράπλευρο $E\Delta B\Gamma$ είναι ισοσκελές τραπέζιο. (Μονάδες 13)



Λύση

α) Είναι $\Delta Z = \frac{1}{2} A\Gamma$ ή $\Delta Z = AE$ (αφού E το μέσο του $A\Gamma$)

οπότε το τετράπλευρο $AEZ\Delta$ θα είναι παραλληλόγραμμο και αφού $\hat{A} = 90^\circ$ θα είναι ορθογώνιο

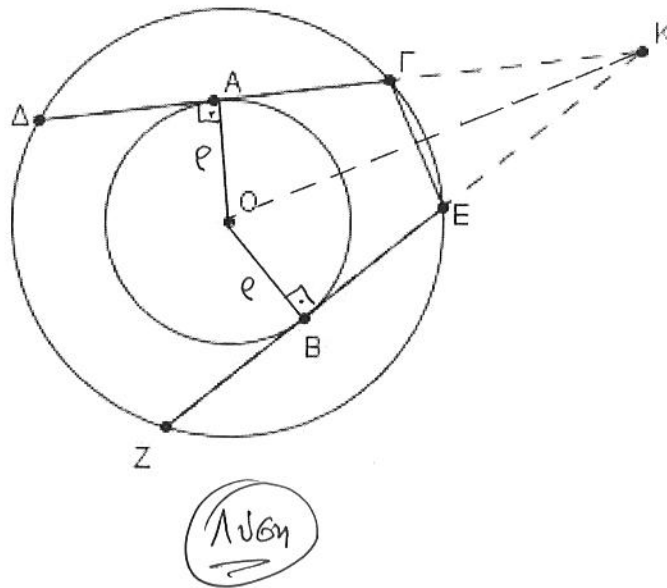
β) Αφού Δ, E τα μέσα των AB και $A\Gamma$ αντίστοιχα θα έχουμε $\Delta E \parallel \Gamma B$ και επειδή $\hat{B} = \hat{\Gamma} = 45^\circ$ ($AB\Gamma$ είναι ισοσκελές) το τετράπλευρο $E\Delta B\Gamma$ είναι ισοσκελές τραπέζιο.

ΘΕΜΑ 2

Δίνονται δύο ομόκεντροι κύκλοι με κέντρο O και ακτίνες ρ και R ($\rho < R$). Οι χορδές $\Delta\Gamma$ και ZE του κύκλου (O, R) εφάπτονται του κύκλου (O, ρ) στα σημεία A και B αντίστοιχα.

α) Να αποδείξετε ότι $\Delta\Gamma = ZE$. (12 Μονάδες)

β) Αν οι $\Delta\Gamma$ και ZE προεκτεινόμενες τέμνονται στο σημείο K , να αποδείξετε ότι το τρίγωνο $KE\Gamma$ είναι ισοσκελές. (13 Μονάδες)



α) Οι ακτίνες OA και OB του κύκλου (O, ρ) είναι τα αποστήματα των χορδών $\Delta\Gamma$ και ZE (αντίστοιχα) του κύκλου (O, R) , επομένως $\Delta\Gamma = ZE$

β) Τα ορθογώνια τρίγωνα AKA και BKB είναι ίσα, αφού έχω $OA = OB = \rho$ και OK κοινή, επομένως $KA = KB$ όμως $AG = BE$ (μιαί ίσων τμημάτων) οπότε $KA - AG = KB - BE$ ή $\boxed{KG = KE}$ που σημαίνει ότι το τρίγωνο $KE\Gamma$ είναι ισοσκελές.

ΘΕΜΑ 2

Έστω ισοσκελές τρίγωνο $AB\Gamma$ με $AB = A\Gamma$ και M το μέσο της πλευράς $B\Gamma$. Στα σημεία B και Γ φέρουμε κάθετες στη $B\Gamma$ προς το ίδιο μέρος, και θεωρούμε σε αυτές σημεία Δ και E αντίστοιχα, τέτοια ώστε $M\Delta = ME$.

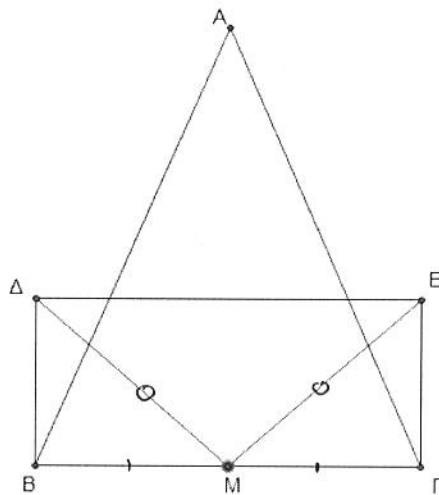
Να αποδείξετε ότι:

α) Τα τμήματα $B\Delta$ και ΓE είναι ίσα.

(Μονάδες 13)

β) Το τετράπλευρο $B\Delta E\Gamma$ είναι ορθογώνιο παραλληλόγραμμο.

(Μονάδες 12)



Λύση

α) Τα τρίγωνα $B\Delta M$ και $\Gamma E M$ έχουν:

- $\hat{\Delta B M} = \hat{M \Gamma E} = 90^\circ$
- $B M = M \Gamma$ (υπόθεση)
- $M \Delta = M E$ (υπόθεση)

Άρα $\hat{B \Delta M} = \hat{\Gamma E M}$ που σημαίνει ότι $B\Delta = \Gamma E$

β) Από το α) έχουμε $B\Delta = \Gamma E$ και $B\Delta \parallel \Gamma E$ αφού $\hat{\Delta B \Gamma} = \hat{E \Gamma M} = 90^\circ$
 Άρα το τετράπλευρο $B\Delta E\Gamma$ είναι ορθογώνιο παραλληλόγραμμο
 αφού $\hat{\Delta B \Gamma} = 90^\circ$.

ΘΕΜΑ 2

Δίνεται ισοσκελές τραπέζιο $AB\Gamma\Delta$, το σημείο M είναι το μέσο της πλευράς $\Delta\Gamma$ και τα σημεία K και Λ είναι τα μέσα των μη παράλληλων πλευρών του $A\Delta$ και $B\Gamma$ αντίστοιχα.

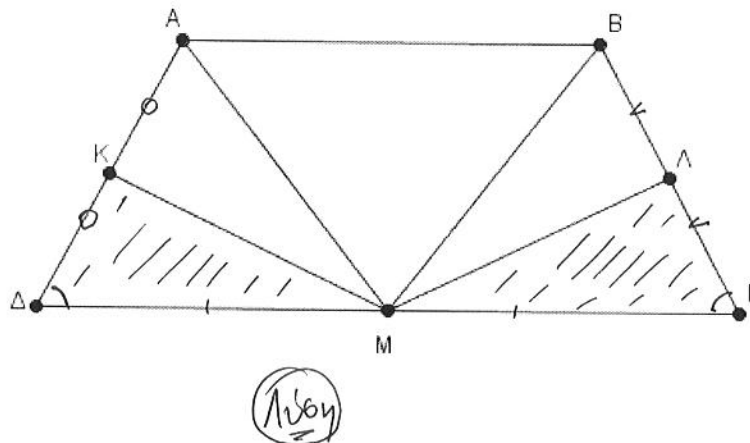
Να αποδείξετε ότι:

α) Τα τμήματα KM και ΛM είναι ίσα.

(Μονάδες 12)

β) Τα τμήματα AM και BM είναι ίσα.

(Μονάδες 13)



α) Τα τρίγωνα $K\Delta M$ και $M\Lambda\Gamma$ έχουν:

- $M\Delta = M\Gamma$ (M το μέσο του $\Delta\Gamma$)

- $\Delta K = \Gamma\Lambda$ (ως μισά των ίσων πλευρών $A\Delta$ και $B\Gamma$)

- $\hat{\Delta} = \hat{\Gamma}$ (αφού το $A\Delta\Gamma B$ είναι ισοσκελές τραπέζιο)

άρα $\triangle K\Delta M = \triangle M\Lambda\Gamma$ οπότε θα έχουν και $KM = \Lambda M$

β) Είναι $\triangle M\Delta A = \triangle M\Gamma B$ αφού $M\Delta = M\Gamma$, $\hat{\Delta} = \hat{\Gamma}$ και $A\Delta = B\Gamma$
επομένως $AM = BM$.

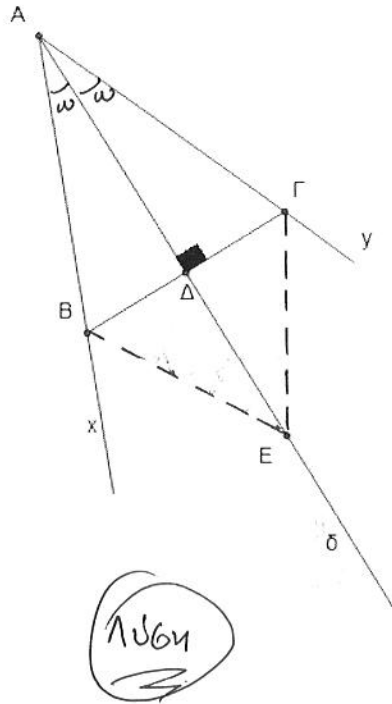
ΘΕΜΑ 2

Δίνεται γωνία $\chi A \gamma$ και η διχοτόμος της $A\delta$. Από τυχαίο σημείο B της $A\chi$ φέρνουμε κάθετη στη διχοτόμο, η οποία τέμνει την $A\delta$ στο Δ και την $A\gamma$ στο Γ .

Να αποδείξετε ότι :

α) Τα τμήματα AB και $A\Gamma$ είναι ίσα. (Μονάδες 12)

β) Το τυχαίο σημείο E της $A\delta$ ισαπέχει από τα B και Γ . (Μονάδες 13)



α) Η $A\Delta$ είναι ύψος και διχοτόμος του τριγώνου $AB\Gamma$
 άρα αυτό θα είναι ισοσκελές δηλαδή $AB = A\Gamma$

β) Το ύψος $A\Delta$ του ισοσκελούς τριγώνου $AB\Gamma$ (από α)) θα
 είναι και διάμετρος, άρα η AE θα είναι μεσοκάθετος
 του $B\Gamma$ επομένως $EB = E\Gamma$.

ΘΕΜΑ 2

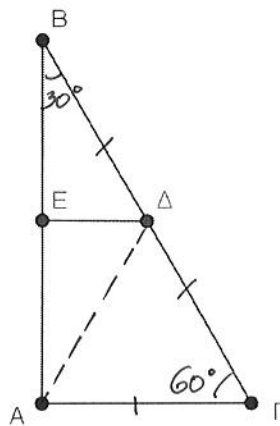
Έστω ορθογώνιο τρίγωνο $AB\Gamma$ με $\hat{A} = 90^\circ$ και $\hat{B} = 30^\circ$. Αν τα σημεία E και Δ είναι τα μέσα των AB και $B\Gamma$ αντίστοιχα με $E\Delta = 1$, να υπολογίσετε τα τμήματα:

α) $A\Gamma$ (Μονάδες 8)

β) $B\Gamma$ (Μονάδες 9)

γ) $A\Delta$ (Μονάδες 8)

Να δικαιολογήσετε τις απαντήσεις σας.



Λύση

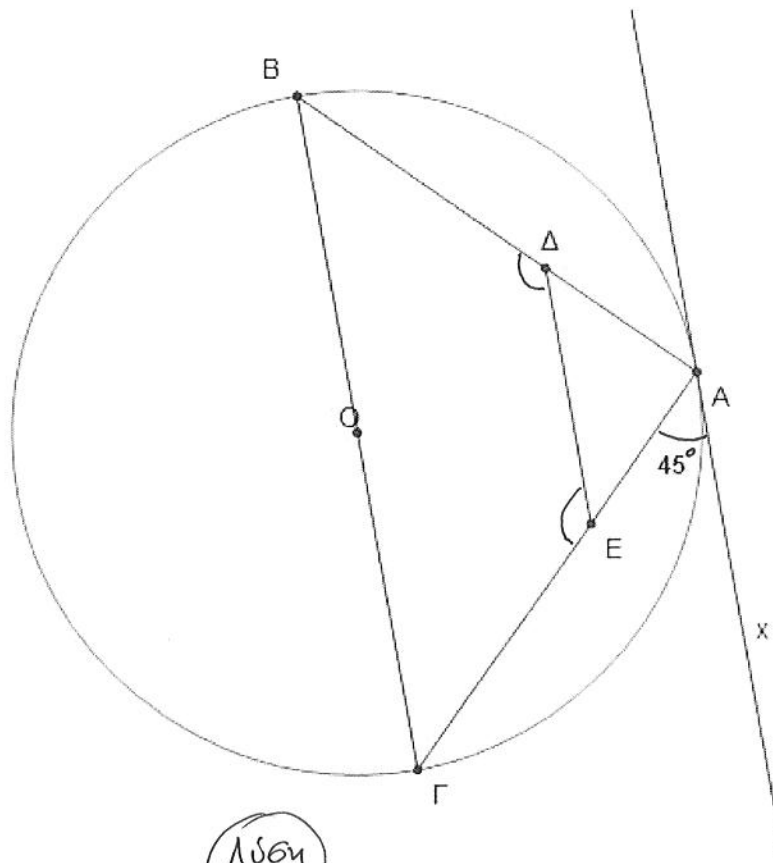
- α) Επειδή E και Δ είναι τα μέσα των AB και $A\Gamma$ αντίστοιχα θα έχουμε $E\Delta = \frac{A\Gamma}{2} \Leftrightarrow A\Gamma = 2E\Delta = 2 \cdot 1 = 2$
- β) Αφού $\hat{B} = 30^\circ$ και $\hat{A} = 90^\circ$ είναι $A\Gamma = \frac{B\Gamma}{2}$ άρα $B\Gamma = 2A\Gamma = 2 \cdot 2 = 4$
- γ) Έχουμε $A\Delta = \frac{B\Gamma}{2}$ ως διάμετρος του ορθογώνιου τριγώνου $AB\Gamma$
 επομένως $A\Delta = \frac{4}{2}$ ή $A\Delta = 2$

ΘΕΜΑ 2

Θεωρούμε κύκλο διαμέτρου ΒΓ. Φέρουμε την εφαπτομένη του κύκλου σε σημείο του Α ώστε να σχηματίζει με τη χορδή ΑΓ γωνία 45° . Φέρουμε επίσης μια παράλληλη ευθεία στη ΒΓ που τέμνει την ΑΒ στο Δ και την ΑΓ στο Ε.

α) Να υπολογίσετε τις γωνίες του τριγώνου ΒΑΓ. (Μονάδες 10)

β) Να αποδείξετε ότι το τετράπλευρο ΒΓΕΔ είναι ισοσκελές τραπέζιο και να υπολογίσετε τις γωνίες του. (Μονάδες 15)



Λύση

α) είναι $\hat{B}A\Gamma = 90^\circ$ (εγγεγραμμένη σε ημικύκλιο) και $\hat{B} = 45^\circ$ (γωνία χορδής - εφαπτομένης) οπότε η $\hat{\Gamma} = 45^\circ$ στο τρίγωνο ΑΒΓ.

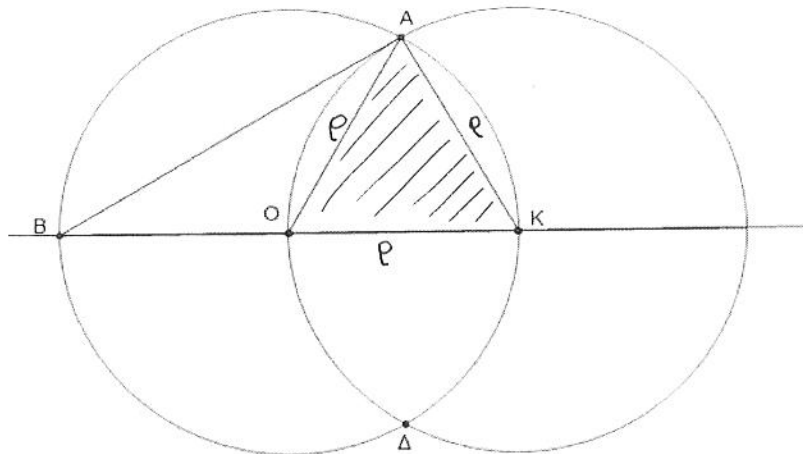
β) επειδή $DE \parallel BG$ το τετράπλευρο ΒΓΕΔ θα είναι τραπέζιο και μαζί με τα ίσομεγέθη δίπλα $\hat{B} = \hat{\Gamma} = 45^\circ$. Είναι $\hat{D}E\Gamma + \hat{\Gamma} = 180^\circ$ (ως εντός και επί τα αυτά μέρη) άρα $\hat{D}E\Gamma = 135^\circ$ ομοίως και $\hat{B}D\Gamma = 135^\circ$

ΘΕΜΑ 2

Δίνονται δυο ίσοι κύκλοι (O, ρ) και (K, ρ) με $OK = \rho$, οι οποίοι τέμνονται στα σημεία A και Δ .

α. Να αποδείξετε ότι το τρίγωνο OAK είναι ισόπλευρο. (Μονάδες 10)

β. Να υπολογίσετε τις γωνίες του τριγώνου BAK . (Μονάδες 15)



Λύση

α) Είναι $OA = KO = KA = \rho$ που σημαίνει ότι το τρίγωνο OAK είναι ισόπλευρο.

β) Έχουμε $\widehat{BAK} = 90^\circ$ (ως εγγραμμένη σε ημικύκλιο)
 επίσης $\widehat{AKB} = 60^\circ$ αφού το \widehat{OAK} είναι ισόπλευρο, επομένως
 $\widehat{B} = 90^\circ - 60^\circ = 30^\circ$.

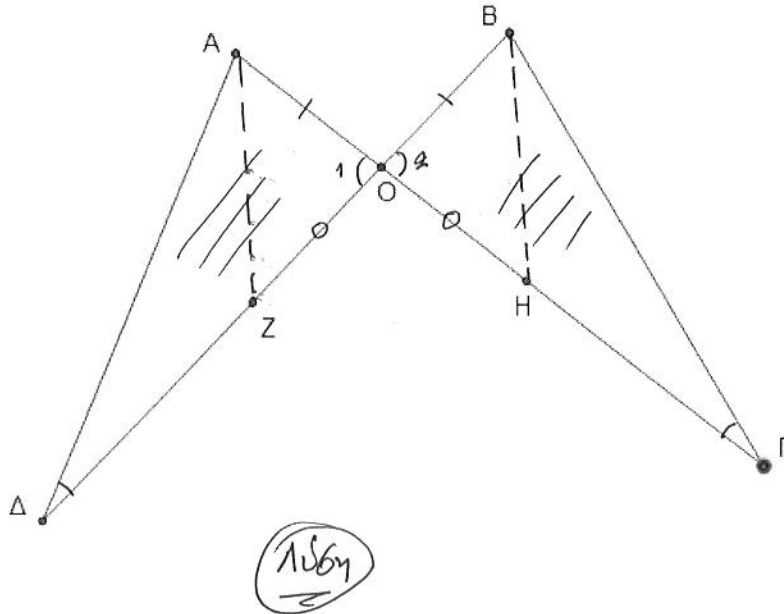
ΘΕΜΑ 2

Δίνονται τα τμήματα $ΑΓ=ΒΔ$ που τέμνονται στο σημείο $Ο$ έτσι ώστε $ΟΑ=ΟΒ$, και τα σημεία $Η$ και $Ζ$ στα τμήματα $ΑΓ$ και $ΒΔ$ αντίστοιχα, έτσι ώστε $ΟΗ=ΟΖ$.

Να αποδείξετε ότι:

α) Οι γωνίες $\hat{ΑΔΟ}$ και $\hat{ΒΓΟ}$ είναι ίσες. (Μονάδες 12)

β) $ΑΖ=ΒΗ$. (Μονάδες 13)



α) Τα τρίγωνα $ΟΑΔ$ και $ΟΒΓ$ έχουν :

- $\hat{Ο}_1 = \hat{Ο}_2$ (ως κατακορυφήν)
- $ΟΑ = ΟΒ$ (υπόθεση)
- $ΟΔ = ΟΓ$ (αφού $ΒΔ = ΑΓ$ και $ΟΒ = ΟΑ$)

οπότε $\hat{ΟΑΔ} = \hat{ΟΒΓ}$ άρα $\hat{Α} = \hat{Β}$

β) Έχουμε $\hat{ΟΑΖ} = \hat{ΟΒΗ}$ διότι $\hat{Ο}_1 = \hat{Ο}_2$, $ΟΑ = ΟΒ$ και $ΟΖ = ΟΗ$

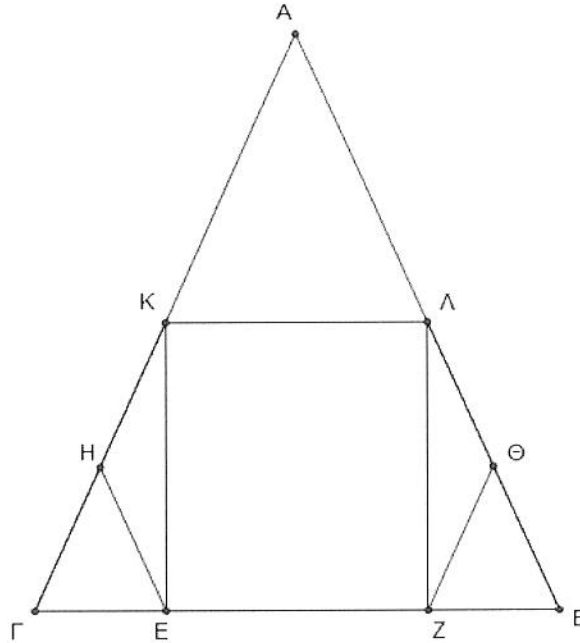
οπότε $ΑΖ = ΒΗ$.

ΘΕΜΑ 2

Έστω ισοσκελές τρίγωνο $AB\Gamma$ με $AB=AG$. Από τα μέσα K και Λ των πλευρών AG και AB αντίστοιχα, φέρουμε τα κάθετα τμήματα KE και ΛZ στην πλευρά $B\Gamma$.

Να αποδείξετε ότι:

- α) Τα τρίγωνα $\triangle KE\Gamma$ και $\triangle \Lambda ZB$ είναι ίσα. (Μονάδες 15)
 β) $EH=Z\Theta$, όπου H, Θ τα μέσα των τμημάτων $K\Gamma, \Lambda B$ αντίστοιχα. (Μονάδες 10)



Λύση

α) Είναι $\triangle KE\Gamma = \triangle \Lambda ZB$ αφού είναι ορθογώνια ($\widehat{KE\Gamma} = \widehat{\Lambda ZB} = 90^\circ$),
 $\widehat{\Gamma} = \widehat{B}$ ($\triangle AB\Gamma$ ισοσκελές) και $KE = \Lambda Z$ (ως μισά των ίδων πλευρών AG και AB)

β) Το EH είναι διάμεσος που απερίσσει στην υποτείνουσα του ορθογώνιου τριγώνου $KE\Gamma$ άρα $EH = \frac{KE}{2}$ (1)

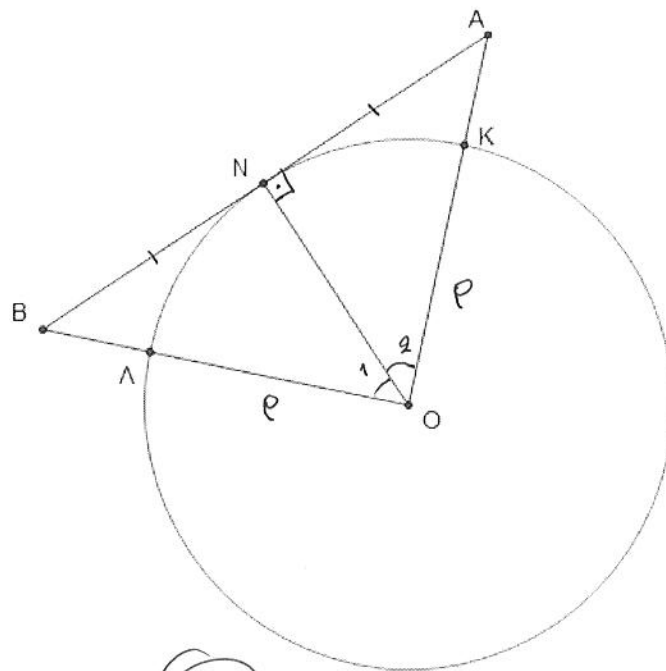
ομοίως $Z\Theta$ διάμεσος του ορθογώνιου τριγώνου ΛZB άρα
 $Z\Theta = \frac{\Lambda Z}{2}$ (2) άρα $KE = \Lambda Z$ οπότε από (1), (2) είναι $EH = Z\Theta$

ΘΕΜΑ 2

Έστω κύκλος με κέντρο O και ακτίνα ρ . Σε σημείο N του κύκλου φέρουμε την εφαπτόμενή του, και εκατέρωθεν του N θεωρούμε σημεία A και B , τέτοια ώστε $NA=NB$. Οι OA και OB τέμνουν τον κύκλο στα K και Λ αντίστοιχα.

Να αποδείξετε ότι:

- α) Το τρίγωνο $\triangle AOB$ είναι ισοσκελές. (Μονάδες 13)
- β) Το σημείο N είναι μέσο του τόξου $K\Lambda$. (Μονάδες 12)



Ισόση

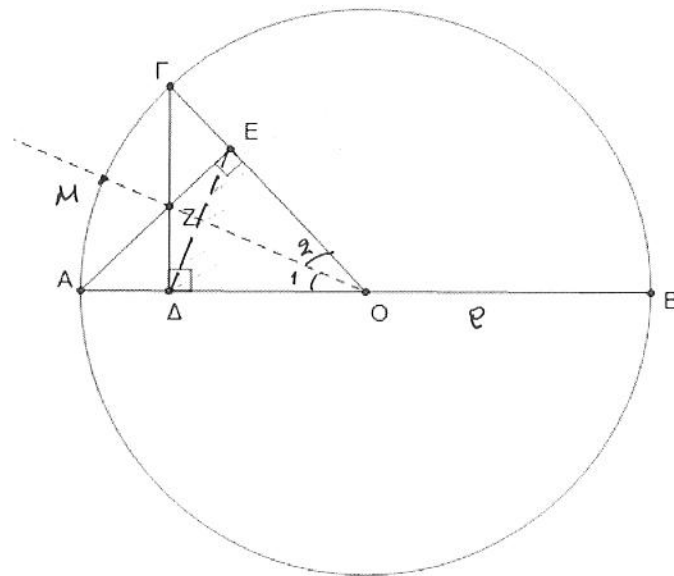
- α) Η ON είναι διάμετρος ($NA=NB$) και ύψος (AB εφαπτομένη) του τριγώνου OAB άρα αυτό θα είναι ισοσκελές.
- β) Η διάμετρος ON του ισοσκελούς τριγώνου AOB θα είναι και διχοτόμος σημαίνει $\hat{O}_1 = \hat{O}_2$ οπότε $\widehat{N\Lambda} = \widehat{NK}$ που σημαίνει ότι το N θα είναι το μέσο του τόξου $K\Lambda$.

ΘΕΜΑ 2

Έστω κύκλος με κέντρο O και ακτίνα ρ . Θεωρούμε διάμετρο AB και τυχαίο σημείο Γ του κύκλου. Αν AE κάθετο στην OG και $\Gamma\Delta$ κάθετο στην AO να αποδείξετε ότι:

α) Το τρίγωνο $\triangle O\Delta E$ είναι ισοσκελές. (Μονάδες 13)

β) Η OZ διχοτομεί τη γωνία $\angle AOG$ και προεκτεινόμενη διέρχεται από το μέσο του τόξου AG . (Μονάδες 12)



Λύση

α) Τα τρίγωνα $O\Gamma\Delta$ και OAE έχουν:

- $\hat{\Gamma\Delta O} = \hat{AEO} = 90^\circ$

- $\hat{O\Delta\Gamma}$: κοινή

- $O\Gamma = OA = \rho$

οπότε $\triangle O\Gamma\Delta = \triangle OAE$ άρα $OE = OD$ δηλαδή το $\triangle O\Delta E$ είναι ισοσκελές

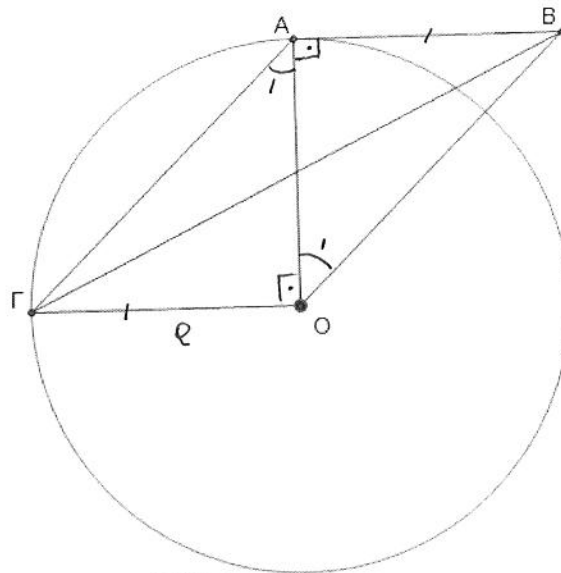
β) Είναι $\triangle O\Delta Z = \triangle O\Delta E$ (ορθογώνια, OZ κοινή και $OE = OD$) άρα $\hat{\Delta O Z} = \hat{\Delta O E}$ που σημαίνει ότι OZ διχοτομεί την $\angle AOG$. Έχουμε $\hat{MA} = \hat{MG}$ διότι $\hat{\Delta O Z} = \hat{\Delta O E}$ (επιπλέοντες ίσες) άρα το M είναι το μέσο του τόξου AG .

ΘΕΜΑ 2

Έστω κύκλος με κέντρο O και ακτίνα ρ . Θεωρούμε κάθετες ακτίνες OA , OG και εφαπτόμενο στον κύκλο τμήμα AB με $AB = OG$.

α) Να αποδείξετε ότι τα τμήματα AO και $BΓ$ διχοτομούνται. (Μονάδες 10)

β) Να υπολογίσετε τις γωνίες του τετραπλεύρου $ABOG$. (Μονάδες 15)



Λύση

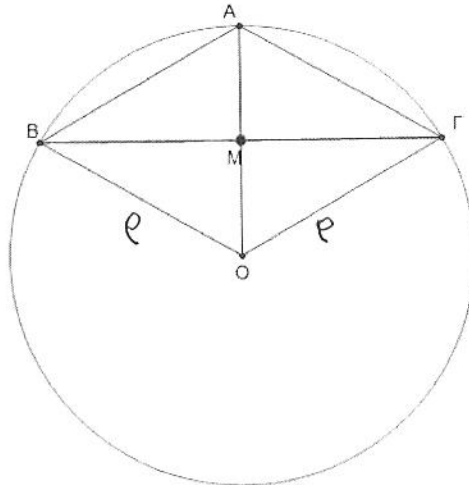
- α) Επειδή AB εφαπτόμενο τμήμα θα είναι $OA \perp AB$ επίσης είναι $OA \perp OG$ επομένως $AB \parallel OG$. Έχουμε δηλαδή $AB = OG$ που σημαίνει ότι το τετράπλευρο $ABOG$ είναι παραλληλόγραμμο άρα οι διαγώνιες AO και $BΓ$ διχοτομούνται.
- β) Τα ορθογώνια τρίγωνα AOB και AOG είναι ισοσκελή ($AB = OA = \rho$ και $OA = OG = \rho$) άρα $\hat{A}OB = \hat{O}A_1 = \hat{O}GA = \hat{A}_1 = 45^\circ$ και $\hat{GA}B = \hat{GO}B = 90^\circ + 45^\circ = 135^\circ$.

ΘΕΜΑ 2

Έστω κύκλος με κέντρο O και ακτίνα ρ . Θεωρούμε την ακτίνα OA και τη χορδή $B\Gamma$ κάθετη στην OA στο μέσο της M .

α) Να αποδείξετε ότι το τετράπλευρο $AΓOB$ είναι ρόμβος. (Μονάδες 10)

β) Να υπολογίσετε τις γωνίες του τετραπλεύρου $AΓOB$. (Μονάδες 15)



Λύση

α) Το απόστημα OM της χορδής $B\Gamma$ είναι και διάμετρος της άρα $MB=MG$ επίσης $MA=MO$ που σημαίνει ότι οι διαγώνιοι του τετραπλεύρου $AΓOB$ διχοτομούνται και είναι κάθετοι ($OA \perp B\Gamma$) επομένως το $AΓOB$ είναι ρόμβος

β) Αφού το τετράπλευρο $AΓOB$ είναι ρόμβος, έχουμε $AB=OA=OB=\rho$ οπότε το τρίγωνο ABO είναι ισοπλευρό άρα $\hat{B}=60^\circ=\hat{\Gamma}$ και $\hat{B}\hat{A}\hat{\Gamma}=\hat{B}\hat{O}\hat{\Gamma}=120^\circ (180^\circ-60^\circ)$.

ΘΕΜΑ 2

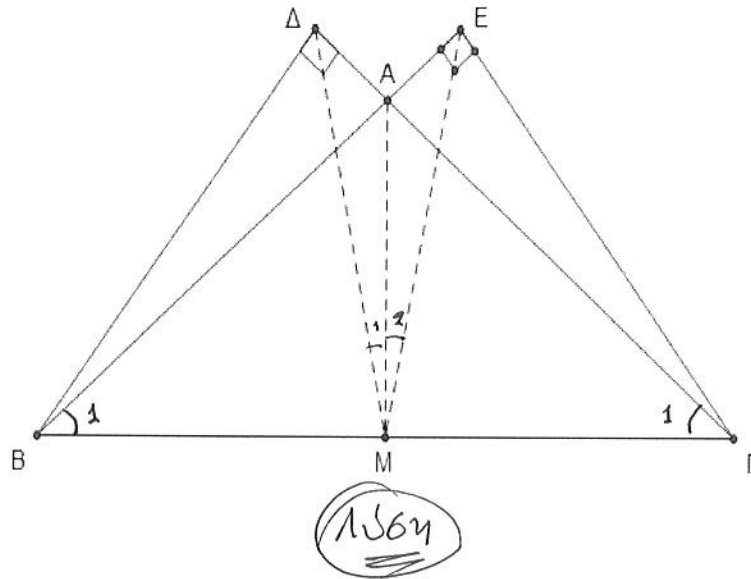
Έστω ισοσκελές τρίγωνο $\triangle AB\Gamma$ ($AB = A\Gamma$). Στις προεκτάσεις των πλευρών AB και $A\Gamma$ προς το A φέρνουμε τμήματα $B\Delta$ και ΓE κάθετα στις $A\Gamma$ και AB αντίστοιχα.

α) Να αποδείξετε ότι $B\Delta = \Gamma E$. (Μονάδες 10)

β) Αν M το μέσο της $B\Gamma$ τότε:

i. Να αποδείξετε ότι $M\Delta = ME$. (Μονάδες 8)

ii. Να αποδείξετε ότι η AM διχοτομεί τη γωνία $\angle \Delta ME$. (Μονάδες 7)



α) Τα τρίγωνα $B\Delta\Gamma$ και $\Gamma E\Delta$:

- $\hat{\Delta} = \hat{E} = 90^\circ$
- $B\Gamma$ κοινή
- $\hat{B}_1 = \hat{\Gamma}_1$ (αφού το τρίγωνο $AB\Gamma$ είναι ισοσκελές)

Επομένως τα τρίγωνα είναι ίσα, οπότε $B\Delta = \Gamma E$

β) i. Η DM είναι διάμετρος του ορθογώνιου τριγώνου $\Delta B\Gamma$ οπότε $DM = \frac{B\Gamma}{2}$ ομοίως $EM = \frac{B\Gamma}{2}$ ως διάμετρος του ορθογώνιου τριγώνου $E\Gamma\Delta$ επομένως $M\Delta = ME$

ii. Είναι $\triangle ADM = \triangle AEM$ (AM κοινή, $DM = ME$ και $AD = AE$ αφού $\Delta\Gamma = BE$, $A\Gamma = AB$) οπότε $\hat{M}_1 = \hat{M}_2$ άρα η MA διχοτομεί τη γωνία $\angle \Delta ME$

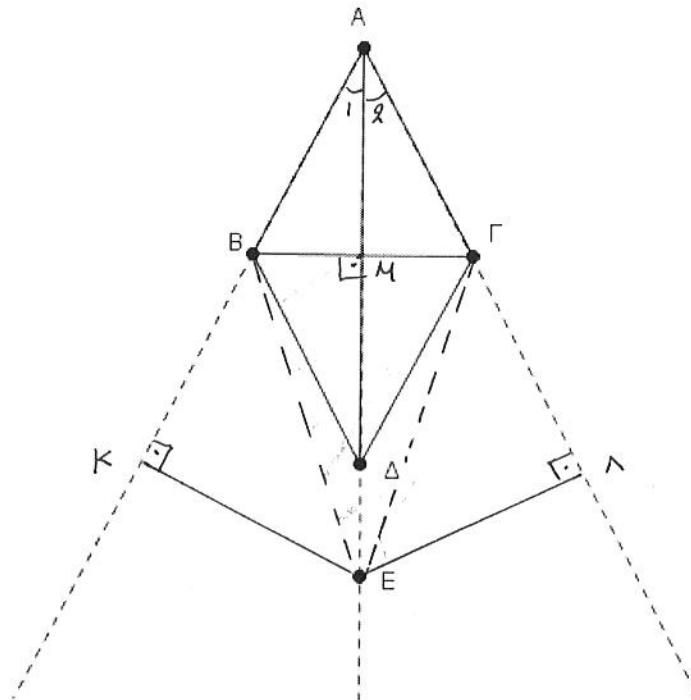
ΘΕΜΑ 2

Δίνεται ρόμβος $AB\Delta\Gamma$. Στην προέκταση της διαγωνίου $A\Delta$ (προς το Δ) παίρνουμε τυχαίο σημείο E .

Να αποδείξετε ότι:

α) Το σημείο E ισαπέχει από τις προεκτάσεις των πλευρών AB και $A\Gamma$ (προς το μέρος των B και Γ αντίστοιχα). (Μονάδες 10)

β) Το σημείο E ισαπέχει από τα σημεία B και Γ . (Μονάδες 15)



Λύση

α) Επειδή το $AB\Delta\Gamma$ είναι ρόμβος η $A\Delta$ διχοτομεί τη γωνία A άρα το E ισαπέχει από τις πλευρές της γωνίας A , άρα $E\kappa = E\lambda$

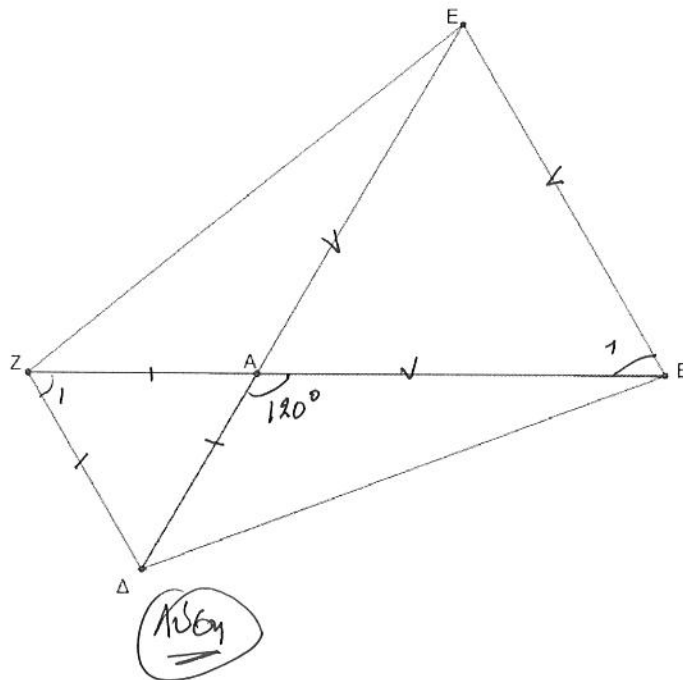
β) Οι διαγώνιοι του ρόμβου $AB\Delta\Gamma$ διχοτομούνται και τέμνονται κάθετα άρα EM διάμετρος και ύψος του τριγώνου $EB\Gamma$ οπότε θα είναι ισοσκελές, άρα $EB = E\Gamma$.

ΘΕΜΑ 2

Έστω τρίγωνο $AB\Delta$ με $\hat{A} = 120^\circ$. Εξωτερικά του τριγώνου κατασκευάζουμε τα ισόπλευρα τρίγωνα $A\epsilon B$ και $AZ\Delta$.

Να αποδείξετε ότι:

- α) Τα τρίγωνα $A\epsilon Z$ και $AB\Delta$ είναι ίσα. (Μονάδες 12)
 β) Το τετράπλευρο $B\Delta Z\epsilon$ είναι ισοσκελές τραπέζιο. (Μονάδες 13)



α) Έχουμε $A\epsilon Z = AB\Delta$ διότι $\hat{DAB} = \hat{ZAE}$ (κατακορυφήν),
 $AZ = A\Delta$ και $A\epsilon = AB$

β) Είναι $\hat{Z}_1 = \hat{B}_1 = 60^\circ$ επομένως $EB \parallel Z\Delta$ (\hat{Z}_1, \hat{B}_1 εντός εναλλάξ)
 άρα το $Z\Delta B\epsilon$ είναι τραπέζιο και επειδή $\epsilon Z = B\Delta$
 θα είναι ισοσκελές τραπέζιο.

ΘΕΜΑ 2

Σε κύκλο κέντρου O φέρουμε δυο διαμέτρους του AB και $\Gamma\Delta$.

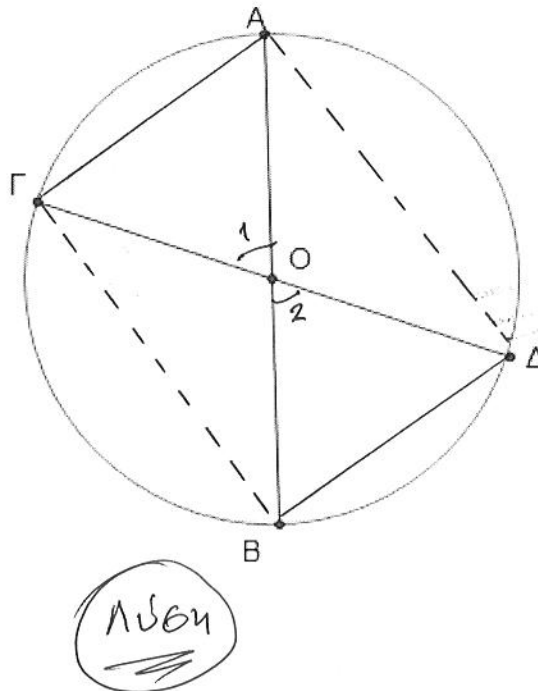
Να αποδείξετε ότι:

α) Οι χορδές $A\Gamma$ και $B\Delta$ του κύκλου είναι ίσες.

(Μονάδες 13)

β) Το τετράπλευρο $A\Gamma B\Delta$ είναι ορθογώνιο.

(Μονάδες 12)



α) Είναι $\hat{O}_1 = \hat{O}_2$ ως κατακορυφήν οπότε $A\Gamma = B\Delta$

β) Έχουμε $OA = OB = OG = OD$ άρα οι διαγώνιες του τετραπλεύρου $A\Gamma B\Delta$ διχοτομούνται και είναι ίσες επομένως το $A\Gamma B\Delta$ είναι ορθογώνιο.

2ος τρόπος

Είναι $\hat{A} = \hat{\Gamma} = \hat{B} = \hat{\Delta} = 90^\circ$ ως εγγεγραμμένες σε ημικύκλια, άρα το $A\Gamma B\Delta$ είναι ορθογώνιο

ΘΕΜΑ 2

Έστω κύκλος με κέντρο O και ακτίνα ρ . Από σημείο A εκτός του κύκλου, φέρουμε τα εφαπτόμενα τμήματα AB και AG . Τα σημεία E και Δ είναι τα αντιδιαμετρικά σημεία των B και Γ αντίστοιχα.

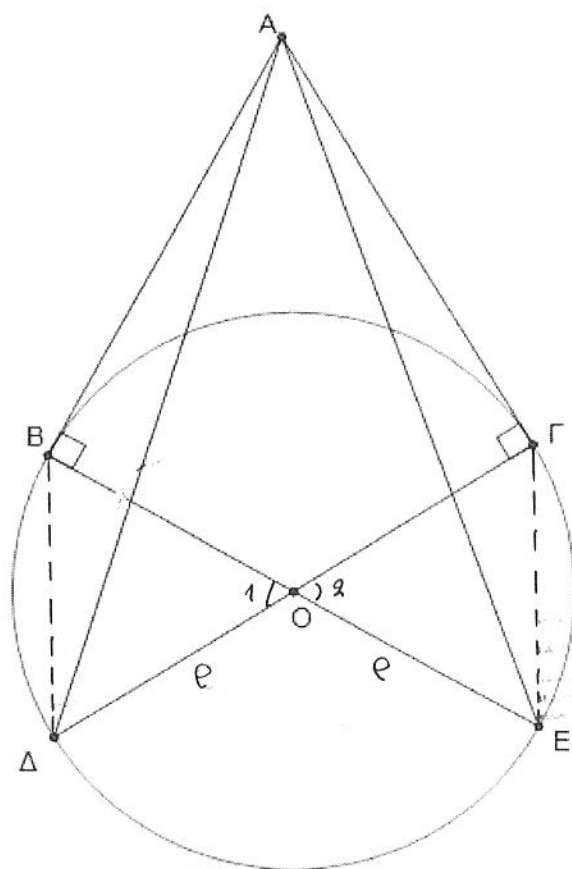
Να αποδείξετε ότι:

α) Τα τρίγωνα ABE και $AG\Delta$ είναι ίσα.

(Μονάδες 13)

β) Τα τρίγωνα $AB\Delta$ και AGE είναι ίσα.

(Μονάδες 12)



Λύση

α) Τα τρίγωνα ABE και $AG\Delta$ έχουν:

- $\hat{B} = \hat{\Gamma} = 90^\circ$
- $AB = AG$ (ως εφαπτόμενα τμήματα)
- $BE = \Delta\Gamma = 2\rho$

Άρα τα τρίγωνα είναι ίσα

β) Τα τρίγωνα $AB\Delta$ και AGE έχουν:

- $AB = AG$
- $AD = AE$ (αφού $\hat{ABE} = \hat{AG\Delta}$)
- $BD = GE$ ($\hat{O}_1 = \hat{O}_2$ ως κατακορυφήν)

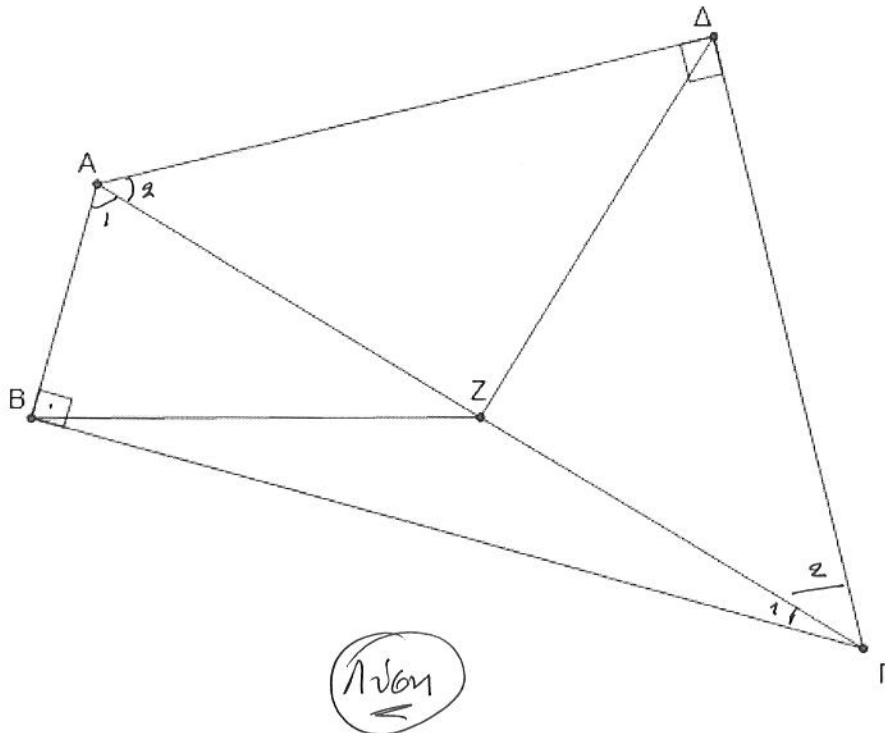
Επομένως τα τρίγωνα $AB\Delta$ και AGE είναι ίσα

ΘΕΜΑ 2

Έστω ορθογώνιο τρίγωνο $\hat{A}B\Gamma$ με $\hat{B} = 90^\circ$ και Z το μέσο του $A\Gamma$. Με υποτείνουσα το $A\Gamma$ κατασκευάζουμε ορθογώνιο ισοσκελές τρίγωνο $\hat{A}\Delta\Gamma$ με $\hat{\Delta} = 90^\circ$.

α) Να αποδείξετε ότι $BZ = \Delta Z$. (Μονάδες 13)

β) Αν $\hat{A}\Gamma B = 30^\circ$, να υπολογίσετε τις γωνίες $B\hat{A}\Delta$ και $B\hat{\Gamma}\Delta$. (Μονάδες 12)



α) Η BZ είναι διάμετρος που αντιστοιχεί στην υποτείνουσα του ορθογώνιου τριγώνου $B\hat{A}\Gamma$ άρα $BZ = \frac{A\Gamma}{2}$ (1) ομοίως $\Delta Z = \frac{A\Gamma}{2}$ (2) (Z το μέσο της $A\Gamma$), άρα από (1),(2) είναι $BZ = \Delta Z$

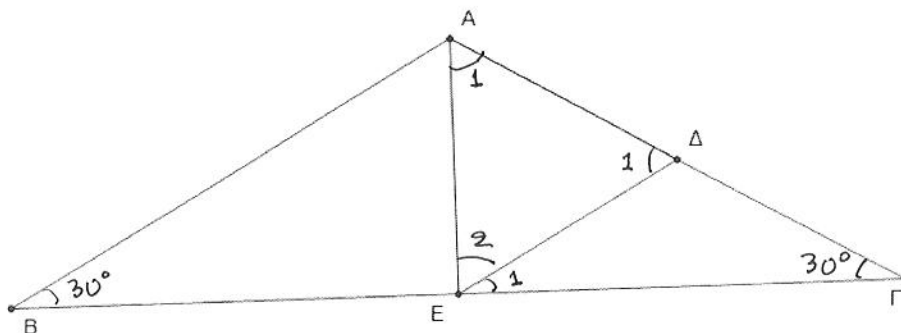
β) Επειδή $\hat{\Gamma}_1 = 30^\circ$ τότε $\hat{A}_1 = 60^\circ$ ($\hat{B} = 90^\circ$) και $\hat{A}_2 = \frac{1}{2} = 45^\circ$
 Διότι το τρίγωνο $A\hat{\Delta}\Gamma$ είναι ορθογώνιο, άρα :
 $B\hat{A}\Delta = 60^\circ + 45^\circ = 105^\circ$ και $B\hat{\Gamma}\Delta = 30^\circ + 45^\circ = 75^\circ$

ΘΕΜΑ 2

Έστω ισοσκελές τρίγωνο $AB\Gamma$ με $AB = A\Gamma$, και γωνία \hat{B} ίση με 30° . Θεωρούμε Δ και E τα μέσα των $A\Gamma$ και $B\Gamma$ αντίστοιχα.

α) Να αποδείξετε ότι το τρίγωνο $E\Delta\Gamma$ είναι ισοσκελές και να υπολογίσετε τις γωνίες του. (Μονάδες 16)

β) Να αποδείξετε ότι το τρίγωνο $A\Delta E$ είναι ισόπλευρο. (Μονάδες 9)



Λύση

α) Επειδή E, Δ τα μέσα των $B\Gamma$ και $A\Gamma$ αντίστοιχα θα ισχύει $E\Delta \parallel AB$ άρα $\hat{E}_1 = \hat{B} = 30^\circ = \hat{\Gamma}$ οπότε το τρίγωνο $E\Delta\Gamma$ είναι ισοσκελές

2ος τρόπος

Η $E\Delta$ είναι διάμετρος του ορθογώνιου τριγώνου $EA\Gamma$

οπότε $E\Delta = \frac{A\Gamma}{2} = A\Gamma$

β) Είναι $\hat{E}_2 = 90^\circ - \hat{E}_1 = 60^\circ$, $\hat{A}_1 = 90^\circ - 30^\circ = 60^\circ$ και $\hat{\Delta}_1 = 60^\circ$ οπότε το τρίγωνο $A\Delta E$ είναι ισόπλευρο

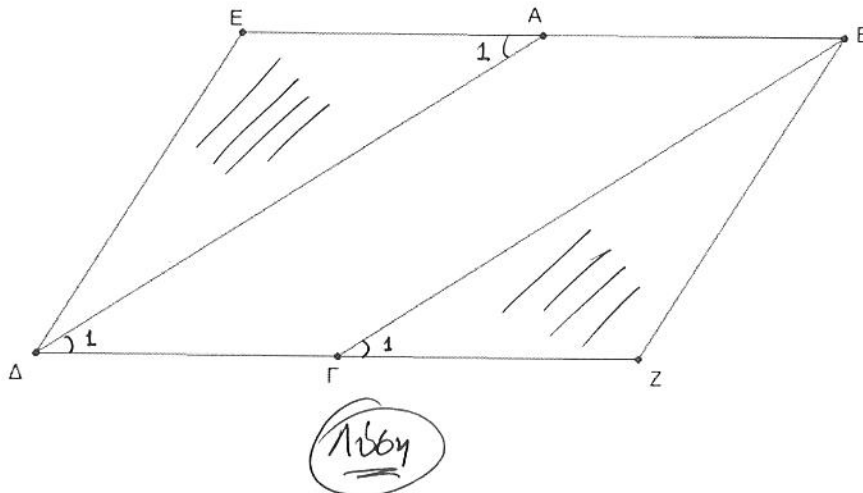
ΘΕΜΑ 2

Έστω παραλληλόγραμμο $AB\Gamma\Delta$. Προεκτείνουμε την πλευρά BA (προς το A) και την πλευρά $\Delta\Gamma$ (προς το Γ) κατά τμήματα $AE = AB$ και $\Gamma Z = \Delta\Gamma$.

Να αποδείξετε ότι:

α) $BZ = E\Delta$ (Μονάδες 13)

β) Το τετράπλευρο $EBZ\Delta$ είναι παραλληλόγραμμο. (Μονάδες 12)



α) Τα τρίγωνα $E\Delta\Delta$ και $B\Gamma Z$ έχουν:

- $\Delta\Delta = B\Gamma$ (αφού $AB\Gamma\Delta$ παραλληλόγραμμο)
- $AE = \Gamma Z$ (αφού $AE = AB$ και $\Gamma Z = \Delta\Gamma$)
- $\hat{A}_1 = \hat{\Gamma}_1$ (αφού $\hat{A}_1 = \hat{\Delta}_1$ εντός εναλλάξ και $\hat{\Gamma}_1 = \hat{\Delta}_1$ ως εντός

άρα $E\Delta\Delta \cong B\Gamma Z$ (εντός και επί τα αυτά) οπότε $BZ = E\Delta$

β) Έχουμε $EB = 2AB$ και $\Delta Z = 2\Delta\Gamma$ άρα $EB = \Delta Z$ και $BZ = E\Delta$ από το α) επομένως το τετράπλευρο $EBZ\Delta$ είναι παραλληλόγραμμο.

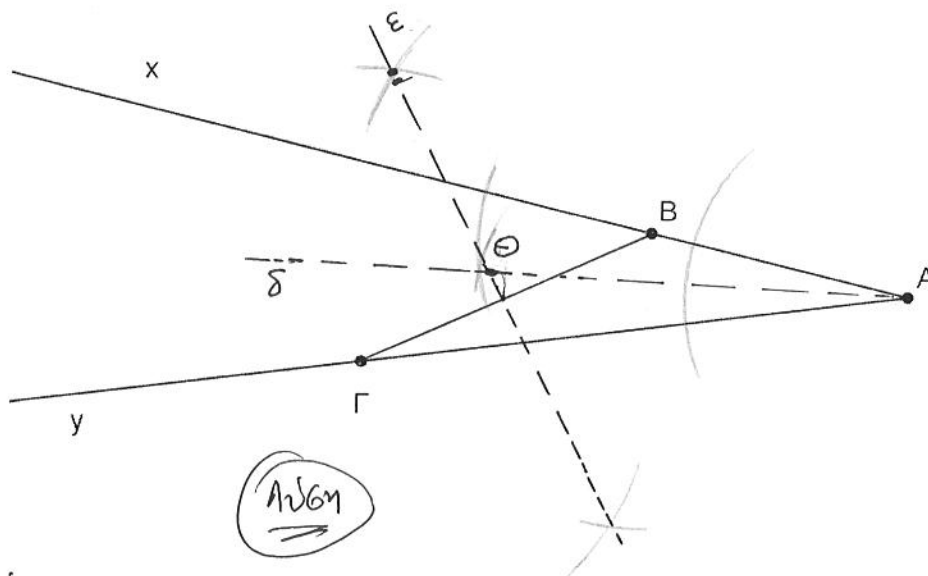
ΘΕΜΑ 2

Στο παρακάτω σχήμα έχουμε το χάρτη μίας περιοχής όπου είναι κρυμμένος ένας θησαυρός. Οι ημιευθείες Ax και Ay παριστάνουν δύο ποτάμια και στα σημεία B και Γ βρίσκονται δύο πλατάνια.

Να προσδιορίσετε γεωμετρικά τις δυνατές θέσεις του θησαυρού, αν είναι γνωστό ότι:

- α) ισαπέχει από τα δύο πλατάνια. (Μονάδες 9)
 β) ισαπέχει από τα δύο ποτάμια. (Μονάδες 9)
 γ) ισαπέχει και από τα δύο πλατάνια και από τα δύο ποτάμια. (Μονάδες 7)

Να αιτιολογήσετε την απάντησή σας σε κάθε περίπτωση.



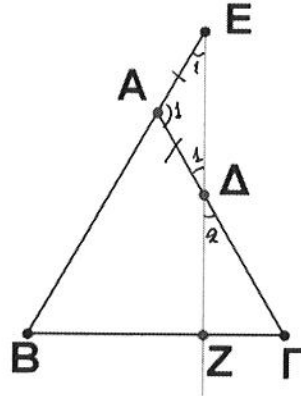
- α) Αφού θέλουμε να ισαπέχει από τα B, Γ θα βρίσκεται στη μεσοκάθετη ϵ του τμήματος $B\Gamma$
 β) επειδή θέλουμε να ισαπέχει από τις ημιευθείς Ax και Ay της γωνίας $\hat{x}Ay$ θα ανήκει στη διχοτόμο δ της γωνίας $\hat{x}Ay$
 γ) Η θέση του θησαυρού θα είναι η τομή της ϵ με τη διχοτόμο δ

ΘΕΜΑ 2

Δίνεται ισόπλευρο τρίγωνο $AB\Gamma$. Θεωρούμε σημείο E στην προέκταση της BA (προς το A) και σημείο Δ στο εσωτερικό της πλευράς $A\Gamma$, ώστε $AE = A\Delta$.

α) Να υπολογίσετε τις γωνίες του τριγώνου $A\Delta E$. (Μονάδες 10)

β) Αν Z είναι το σημείο τομής της προέκτασης της $E\Delta$ (προς το Δ) με την $B\Gamma$, να αποδείξετε ότι η EZ είναι κάθετη στην $B\Gamma$. (Μονάδες 15)



Λύση

α) Είναι $\hat{A}_1 = \hat{A}_{E\Delta} = 180^\circ - 60^\circ = 120^\circ$ και $\hat{E}_1 = \hat{\Delta}_1$ ($\triangle A\Delta E$: ισοσκελές)
 οπότε $\hat{E}_1 = \hat{\Delta}_1 = \frac{60^\circ}{2} = 30^\circ$

β) Έχουμε $\hat{\Delta}_2 = \hat{\Delta}_1 = 30^\circ$ (ως κατακορυφήν), $\hat{\Gamma} = 60^\circ$ οπότε
 $\hat{Z} = 180^\circ - (60^\circ + 30^\circ) = 90^\circ$ που συμφωνεί ότι $EZ \perp B\Gamma$.

ΘΕΜΑ 2

Σε ορθογώνιο τρίγωνο $AB\Gamma$ με $\hat{A} = 90^\circ$ και $\hat{B} > \hat{\Gamma}$ φέρουμε το ύψος του AD και την διάμεσο AM στην πλευρά $B\Gamma$.

Να αποδείξετε ότι:

α) οι γωνίες \hat{B} και $\hat{\Gamma}\hat{A}\hat{\Delta}$ είναι ίσες,

(Μονάδες 12)

β) $\hat{A}\hat{M}\hat{\Delta} = 2 \cdot \hat{\Gamma}$.

(Μονάδες 13)

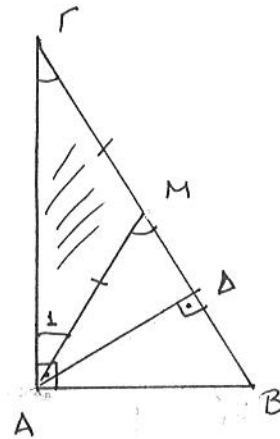
Λύση

α) είναι $\hat{B} = \hat{\Gamma}\hat{A}\hat{\Delta}$ ως οξείες με
κάθετες πλευρές ($BA \perp AD$ και $B\Gamma \perp AD$)

β) έχουμε $\hat{A}\hat{M}\hat{\Delta} = \hat{\Gamma} + \hat{A}$, (1)
ως εξωτερική γωνία του τριγώνου $AM\Gamma$.

Όμως $AM = M\Gamma$ (AM διάμεσος του ορθογώνιου
τριγώνου $AB\Gamma$) άρα $\hat{A} = \hat{\Gamma}$ (2)

Από (1), (2) προκύπτει ότι $\hat{A}\hat{M}\hat{\Delta} = 2\hat{\Gamma}$



ΘΕΜΑ 2

Δίνεται παραλληλόγραμμο $ABΓΔ$ με $\hat{B} = 60^\circ$. Φέρουμε τα ύψη AE και BZ του παραλληλογράμμου που αντιστοιχούν στην ευθεία $ΔΓ$.

Να αποδείξετε ότι:

α) $ΓΖ = \frac{AΔ}{2}$, (Μονάδες 8)

β) το τρίγωνο $AΔE$ είναι ίσο με το τρίγωνο $BΓZ$, (Μονάδες 9)

γ) το τετράπλευρο $ABZE$ είναι ορθογώνιο. (Μονάδες 8)

1 ύψη

α) Είναι $\hat{\Gamma} = 60^\circ$ (ως εντός εναλλάξ)

οπότε στο ορθογώνιο τρίγωνο $BZΓ$ η $\hat{B}_1 = 30^\circ$ οπότε

$$ΓΖ = \frac{BΓ}{2} = \frac{AΔ}{2}$$

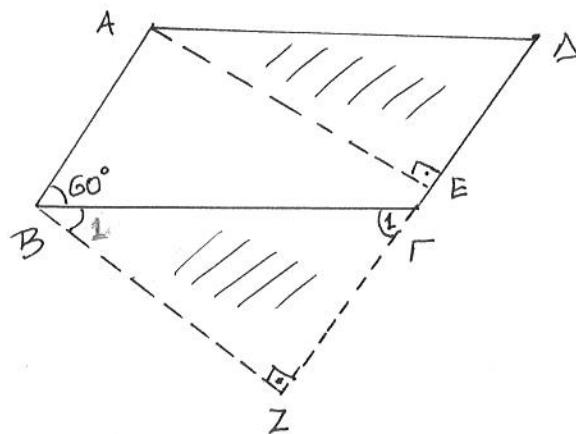
β) Είναι $\hat{AΔE} = \hat{BΓZ}$ αφού είναι

ορθογώνια, $BΓ = AΔ$ και $AΕ = BΖ$ (ως αποστάσεις των παραλλήλων AB και $ΓΔ$)

γ) Είναι $AB \parallel ΓΔ$ άρα $AB \parallel ZE$, $AΕ \parallel BΖ$ (καθήμες στην ίδια ευθεία)
άρα είναι παραλλ/μο με $\hat{Z} = 90^\circ$ άρα είναι ορθογώνιο

2ος τρόπος

έχουμε $\hat{AΒZ} = \hat{Z} = \hat{E} = 90^\circ$ οπότε το $ABZE$ είναι ορθογώνιο



ΘΕΜΑ 2

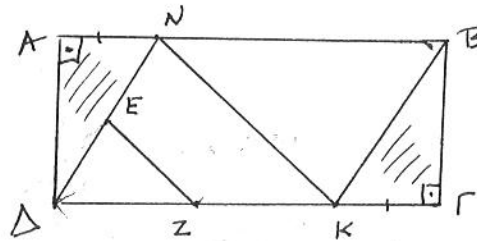
Έστω ορθογώνιο $AB\Gamma\Delta$ και τα σημεία N και K των AB και $\Delta\Gamma$ αντίστοιχα, τέτοια ώστε $AN = K\Gamma$.

α) Να αποδείξετε ότι:

- i. τα τρίγωνα $AN\Delta$ και $B\Gamma K$ είναι ίσα, (Μονάδες 8)
- ii. το τετράπλευρο $NBK\Delta$ είναι παραλληλόγραμμο. (Μονάδες 8)

β) Αν E και Z είναι τα μέσα των $N\Delta$ και ΔK αντίστοιχα, να αποδείξετε ότι το τετράπλευρο $NKZE$ είναι τραπέζιο. (Μονάδες 9)

Λύση



- α) i. είναι $\triangle AN\Delta = \triangle B\Gamma K$ αφού είναι ορθογώνια, $AN = K\Gamma$ και $A\Delta = B\Gamma$
 ii. έχουμε $NB = AB - AN$ και $\Delta K = \Delta\Gamma - K\Gamma$ όμως $AB = \Delta\Gamma$ και $AN = K\Gamma$
 άρα $NB = \Delta K$, επίσης $NB \parallel \Delta K$ οπότε το $NBK\Delta$ είναι παραλληλόγραμμο
- β) Αφού E, Z τα μέσα των ΔN και ΔK αντίστοιχα θα ισχύει $EZ \parallel NK$ που σημαίνει ότι το τετράπλευρο $NKZE$ είναι τραπέζιο

ΘΕΜΑ 2

Δίνεται ορθογώνιο τρίγωνο $AB\Gamma$ ($\hat{A} = 90^\circ$) και AD η διχοτόμος της γωνίας A . Από το σημείο Δ φέρουμε την παράλληλη προς την AB που τέμνει την $A\Gamma$ στο E .

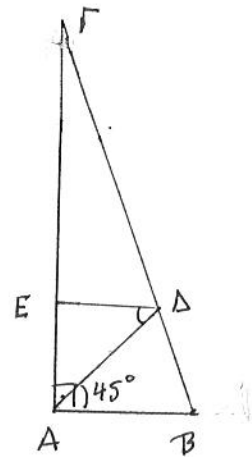
α) Να αποδείξετε ότι το τρίγωνο $E\Delta\Gamma$ είναι ορθογώνιο. (Μονάδες 9)

β) Να υπολογίσετε τη γωνία $A\Delta E$. (Μονάδες 9)

γ) Αν η γωνία \hat{B} είναι 20 μοίρες μεγαλύτερη της γωνίας $\hat{\Gamma}$, να υπολογίσετε τη γωνία $E\hat{\Delta}\Gamma$. (Μονάδες 7)

Λύση

α) Αφού $E\Delta \parallel AB$ η $\hat{E} = \hat{A} = 90^\circ$
(ως εντός εναλλάξ)
οπότε το $E\Delta\Gamma$ είναι ορθογώνιο



β) Έχουμε $\hat{A}\Delta E = 45^\circ$ (ως εντός εναλλάξ)

γ) Είναι $\hat{B} + \hat{\Gamma} = 90^\circ$ και $\hat{B} = 20^\circ + \hat{\Gamma}$ άρα $20^\circ + \hat{\Gamma} + \hat{\Gamma} = 90^\circ \Leftrightarrow$
 $2\hat{\Gamma} = 70^\circ \Leftrightarrow \hat{\Gamma} = 35^\circ$ οπότε $\hat{B} = 55^\circ$

4 γιατί $E\hat{\Delta}\Gamma = \hat{B} = 55^\circ$ (ως εντός εωτός και επί τα αυτά μέρη)

ΘΕΜΑ 2

Δίνεται ισοσκελές τραπέζιο $AB\Gamma\Delta$ ($AB \parallel \Gamma\Delta$) με $AB=8$ και $\Delta\Gamma=12$. Αν AH και $B\Theta$ τα ύψη του τραpezίου,

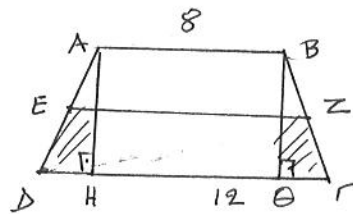
α) να αποδείξετε ότι $\Delta H = \Theta\Gamma$.

(Μονάδες 12)

β) να υπολογίσετε τη διάμεσο του τραpezίου.

(Μονάδες 13)

Ισογ



α) Τα τρίγωνα $\Delta H A$ και $\Theta B \Gamma$ έχουν:

- $\hat{H} = \hat{\Theta} = 90^\circ$
- $A\Delta = B\Gamma$ ($AB\Gamma\Delta$ ισοσκελές τραπέζιο)
- $\hat{\Delta} = \hat{\Gamma}$ (" " " ")

άρα είναι ίσα οπότε $\Delta H = \Theta\Gamma$

β) Έστω EZ η διάμεσος του τραpezίου $AB\Gamma\Delta$ τότε έχουμε:

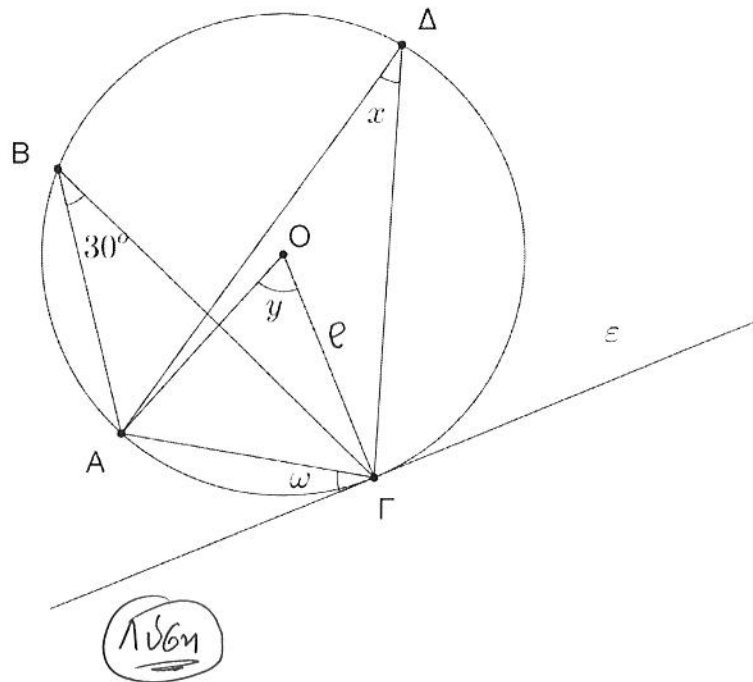
$$EZ = \frac{AB + \Delta\Gamma}{2} = \frac{8 + 12}{2} = 10$$

ΘΕΜΑ 2

Στο παρακάτω σχήμα η ευθεία ϵ εφάπτεται του κύκλου (O, ρ) στο σημείο Γ .

α) Να υπολογίσετε τις γωνίες x, y και ω δικαιολογώντας σε κάθε περίπτωση την απάντησή σας. (Μονάδες 15)

β) Να βρείτε το είδος του τριγώνου OAG ως προς τις πλευρές. (Μονάδες 10)



α) Είναι :

• $x = \hat{B} = 30^\circ$ (εγγεγραμμένες στο ίδιο τόξο)

• $\omega = 30^\circ$ (γωνία χορδής-εφαπτομένης)

• $y = 2\hat{B} = 60^\circ$ (y επίκεντρο και B εγγεγραμμένη στο ίδιο τόξο)

β) Είναι $OA = OG = \rho$ και $y = 60^\circ$ άρα το τρίγωνο είναι ισοσκελές αφού $\hat{OAG} = \hat{OGA} = \frac{180^\circ - 60^\circ}{2} = 60^\circ$.

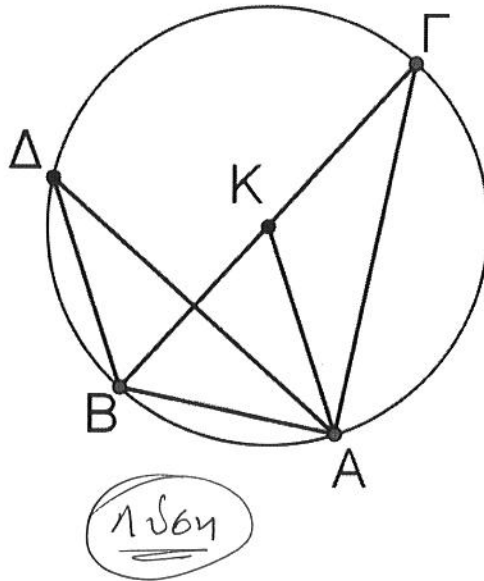
ΘΕΜΑ 2

Έστω κύκλος κέντρου K , μια διάμετρος του $B\Gamma$ και σημείο A του κύκλου τέτοιο ώστε $BA=K\Gamma$. Αν Δ τυχαίο σημείο του κύκλου διαφορετικό των B και Γ ,

α) να αποδείξετε ότι το τρίγωνο BKA είναι ισόπλευρο. (Μονάδες 7)

β) να υπολογίσετε την γωνία $\widehat{B\Delta A}$. (Μονάδες 9)

γ) να υπολογίσετε τις γωνίες του τριγώνου $AB\Gamma$. (Μονάδες 9)



Λύση

α) είναι $BA = K\Gamma = KA = KB = r$ (r η ακτίνα του κύκλου)
επομένως το τρίγωνο BKA είναι ισόπλευρο

β) έχουμε $\widehat{B\Delta A} = \frac{\widehat{BK\Delta}}{2} = \frac{60^\circ}{2} = 30^\circ$ ($\widehat{B\Delta A}$ εγγεγραμμένη και $\widehat{BK\Delta}$ επίκεντρη στο ίδιο τόξο \widehat{BA})

γ) είναι $\widehat{A} = 90^\circ$ (εγγεγραμμένη σε ημικύκλιο), $\widehat{B} = 60^\circ$
άρα $\widehat{\Gamma} = 90^\circ - 60^\circ = 30^\circ$.

ΘΕΜΑ 2

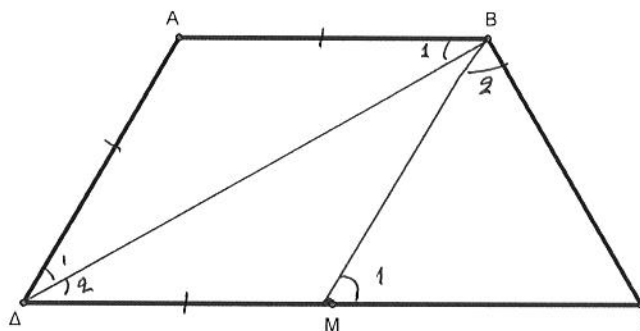
Στο τραπέζιο του παρακάτω σχήματος έχουμε $AB=AD=\frac{\Gamma\Delta}{2}$, $\hat{\Delta}=60^\circ$ και M το μέσο της πλευράς $\Gamma\Delta$.

Να αποδείξετε ότι:

α) η ΔB είναι διχοτόμος της γωνίας $\hat{\Delta}$, (Μονάδες 9)

β) η BM χωρίζει το τραπέζιο σε ένα ρόμβο και ένα ισόπλευρο τρίγωνο.

(Μονάδες 16)



Λύση

- α) Είναι $\hat{\Delta}_1 = \hat{\beta}_1$ αφού το $\Delta\hat{\Delta}B$ είναι ισοσκελές ($AD=AB$) και $\hat{\Delta}_2 = \hat{\beta}_1$ (ως εντός εναλλάξ) άρα $\hat{\Delta}_1 = \hat{\Delta}_2$ οπότε η ΔB διχοτομεί τη $\hat{\Delta}$
- β). Έχουμε $\Delta M = \frac{1}{2}AB$ άρα το τετράπλευρο $ABMD$ είναι παραλληλόγραμμο και μάλιστα ρόμβος αφού η ΔB διχοτομεί τη $\hat{\beta}$
- Είναι $\hat{\mu}_1 = \hat{\Delta} = 60^\circ$ (ως εντός εντός και επί τα αυτά μέρη)
 επίσης $MB = MD = MG$ άρα το τρίγωνο MBG είναι ισόπλευρο αφού
 $\hat{\Gamma} = \hat{\beta}_2 = \frac{180^\circ - 60^\circ}{2} = 60^\circ$

ΘΕΜΑ 2

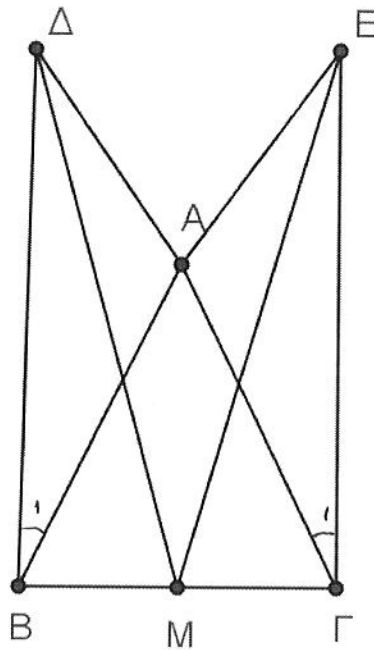
Δίνεται ισοσκελές τρίγωνο $AB\Gamma$ ($AB=AG$). Στα σημεία B και Γ της $B\Gamma$ φέρουμε προς το ίδιο μέρος της $B\Gamma$, τα τμήματα $B\Delta \perp B\Gamma$ και $\Gamma E \perp B\Gamma$ τέτοια ώστε $B\Delta = \Gamma E$. Αν M το μέσο της $B\Gamma$, να αποδείξετε ότι :

α) τα τρίγωνα $B\Delta M$ και $\Gamma E M$ είναι ίσα,

(Μονάδες 12)

β) $AD=AE$.

(Μονάδες 13)



Λύση

α) Τα τρίγωνα $B\Delta M$ και $\Gamma E M$ έχουν :

- $\hat{\Delta B\Gamma} = \hat{E\Gamma B} = 90^\circ$
- $BM = M\Gamma$ (M μέσο $B\Gamma$)
- $B\Delta = \Gamma E$

Άρα τα τρίγωνα είναι ίσα

β) Τα τρίγωνα BAD και ΓAE έχουν :

- $B\Delta = \Gamma E$
- $BA = \Gamma A$
- $\hat{\Delta B_1} = 90^\circ - \hat{B}$ ενώ $\hat{\Gamma_1} = 90^\circ - \hat{\Gamma}$ άρα $\hat{\Delta B_1} = \hat{\Gamma_1}$

οπότε $\hat{B\Delta A} = \hat{\Gamma A E}$ επομένως $AD = AE$.

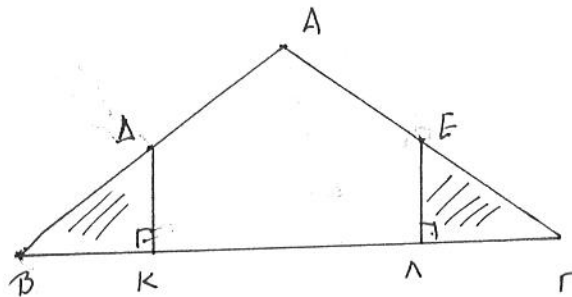
ΘΕΜΑ 2

Έστω ισοσκελές τρίγωνο $AB\Gamma$ ($AB=AG$).

α) Να αποδείξετε ότι τα μέσα Δ και E των πλευρών AB και AG αντίστοιχα, ισαπέχουν από τη βάση $B\Gamma$. (Μονάδες 13)

β) Αν $\hat{A} = 75^\circ + \hat{B}$, να υπολογίσετε τις γωνίες του τριγώνου $AB\Gamma$. (Μονάδες 12)

Λύση



α) Έστω DK και EL οι αποστάσεις των Δ, E (αντίστοιχα) από τη $B\Gamma$
 τότε $\hat{\Delta BK} = \hat{EL\Gamma}$ αφού είναι ορθογώνια $\hat{K} = \hat{L} = 90^\circ$, $\hat{B} = \hat{\Gamma}$ και $B\Delta = EL$
 ως μέσων των ίσων πλευρών AB και AG , επομένως $DK = EL$

β) Έστω $\hat{B} = \hat{\Gamma} = x$ τότε $\hat{A} = 75^\circ + x$ οπότε έχουμε:

$$\hat{A} + \hat{B} + \hat{\Gamma} = 180^\circ \Leftrightarrow 75^\circ + x + x + x = 180^\circ \Leftrightarrow 3x = 105^\circ \Leftrightarrow x = 35^\circ$$

άρα $\hat{B} = \hat{\Gamma} = 35^\circ$ και $\hat{A} = 75^\circ + 35^\circ = 105^\circ$.

ΘΕΜΑ 2

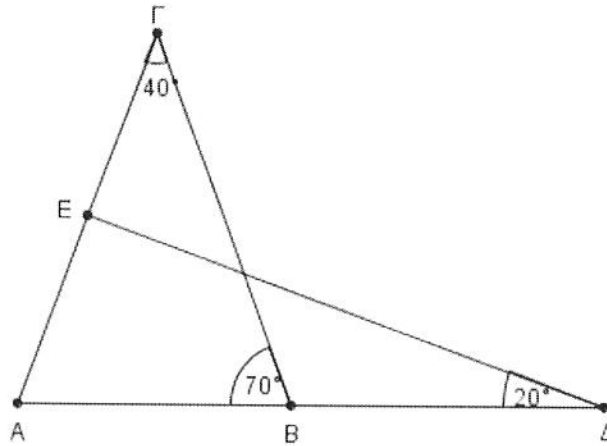
Στο παρακάτω σχήμα, να αποδείξετε ότι:

α) το τρίγωνο ABΓ είναι ισοσκελές,

(Μονάδες 12)

β) η γωνία ΑΕΔ είναι ορθή.

(Μονάδες 13)



Λύση

α) Είναι $\hat{A} + \hat{B} + \hat{\Gamma} = 180^\circ \Leftrightarrow \hat{A} + 70^\circ + 40^\circ = 180^\circ \Leftrightarrow \hat{A} = 70^\circ = \hat{B}$
 οπότε το τρίγωνο ABΓ είναι ισοσκελές

β) Έχουμε στο τρίγωνο AED: $\hat{A} = 70^\circ$, $\hat{\Delta} = 20^\circ$ και
 $\hat{E} = 180^\circ - (70^\circ + 20^\circ)$ ή $\hat{E} = 90^\circ$

ΘΕΜΑ 2

Δίνεται τρίγωνο $AB\Gamma$ με $AB < A\Gamma$ και M το μέσο της $B\Gamma$. Προεκτείνουμε τη διάμεσο AM κατά τμήμα $MD=MA$. Από το A φέρουμε παράλληλη προς τη $B\Gamma$ η οποία τέμνει την προέκταση της $\Delta\Gamma$ στο σημείο E .

Να αποδείξετε ότι:

α) το τετράπλευρο $AB\Delta\Gamma$ είναι παραλληλόγραμμο,

(Μονάδες 12)

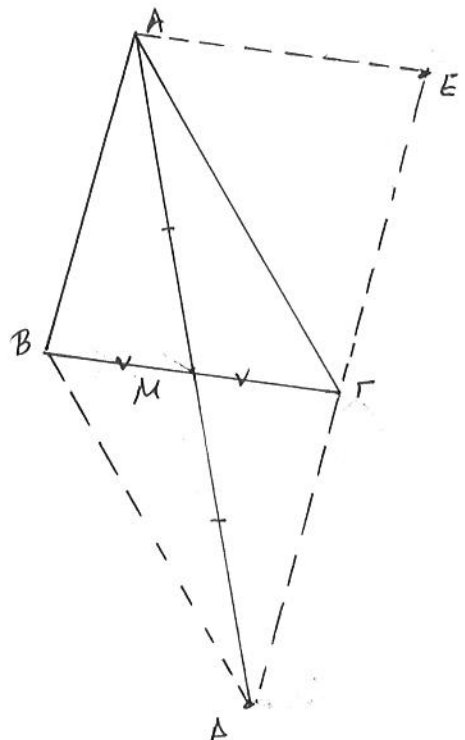
β) $BM = \frac{AE}{2}$

(Μονάδες 13)

Λύση

α) οι διαγώνιες $A\Delta$ και $B\Gamma$
του τετραπλεύρου $AB\Delta\Gamma$ διχοτομούνται
($AM=MD$, $BM=MG$) άρα το
 $AB\Delta\Gamma$ είναι παραλληλόγραμμο

β) Είναι $AE \parallel B\Gamma$ και
 $GE \parallel AB$ άρα το τετράπλευρο
 $ABGE$ είναι παραλληλόγραμμο
οπότε $AE = B\Gamma = 2BM$ άρα
 $BM = \frac{AE}{2}$



ΘΕΜΑ 2

Δίνεται τρίγωνο $AB\Gamma$ τέτοιο, ώστε $A\Gamma < AB$. Στην πλευρά AB θεωρούμε σημείο Δ τέτοιο ώστε $A\Delta = A\Gamma$ και στην προέκταση της BA (προς το A) θεωρούμε σημείο E τέτοιο ώστε $AE = A\Gamma$.

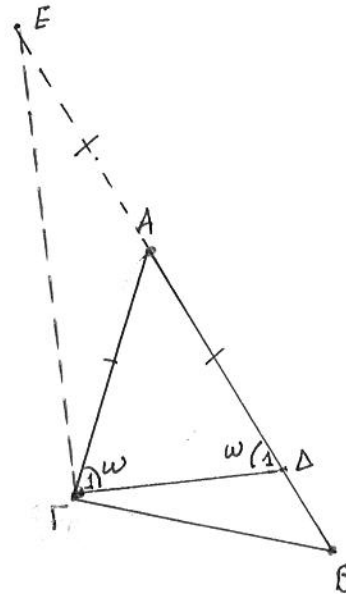
Να αποδείξετε ότι:

α) $\Delta\Gamma \perp E\Gamma$,

(Μονάδες 12)

β) η γωνία EAG είναι διπλάσια της γωνίας $A\Delta\Gamma$.

(Μονάδες 13)



Λύση

α) Επειδή στο τρίγωνο $\Gamma E\Delta$ η διάμετρος $\Gamma A = \frac{E\Delta}{2}$ η γωνία $\Delta\Gamma E = 90^\circ$
 άρα $\Delta\Gamma \perp E\Gamma$

β) Έχουμε $E\hat{A}\Gamma = \hat{\Gamma}_1 + \hat{\Delta}_1 = \omega + \omega = 2\omega$ δηλαδή
 $E\hat{A}\Gamma = 2 A\hat{\Delta}\Gamma$
(επιπέδων του $A\Gamma\Delta$)

ΘΕΜΑ 2

Έστω κύκλος κέντρου O και διαμέτρου $BΓ$. Θεωρούμε τα σημεία A και Δ του κύκλου εκατέρωθεν της $BΓ$, τέτοια ώστε το τόξο $B\Delta$ να είναι διπλάσιο του τόξου $\Delta\Gamma$.

Να υπολογίσετε:

α) το μέτρο x του τόξου $\Gamma\Delta$,

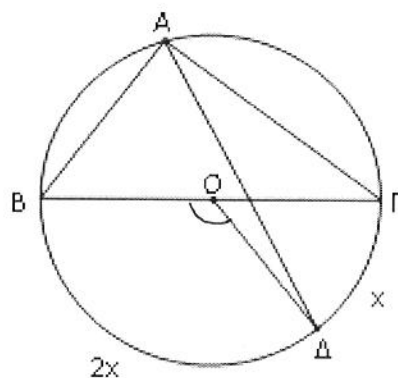
(Μονάδες 8)

β) τη γωνία $\text{ΒΟ}\Delta$,

(Μονάδες 9)

γ) τη γωνία $\text{ΒΑ}\Delta$.

(Μονάδες 8)



Λύση

α) είναι $2x + x = 180^\circ \Leftrightarrow 3x = 180^\circ \Leftrightarrow x = 60^\circ$

β) έχουμε $\widehat{\text{ΒΟ}\Delta} = 2x = 2 \cdot 60^\circ = 120^\circ$

γ) είναι $\widehat{\text{ΒΑ}\Delta} = \frac{\widehat{\text{ΒΟ}\Delta}}{2} = \frac{120^\circ}{2} = 60^\circ$

(η εγγεγραμμένη είναι το μισό της αντίστοιχης στη νευτεριά)

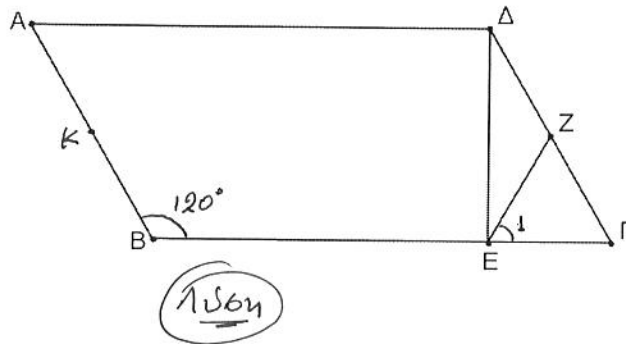
ΘΕΜΑ 2

Σε παραλληλόγραμμο ΑΒΓΔ είναι $\hat{B} = 120^\circ$ και $\Delta E \perp B\Gamma$. Έστω ΕΖ η διάμεσος του τριγώνου ΔΕΓ.

α) Να υπολογίσετε τις γωνίες Α και Γ του παραλληλογράμμου. (Μονάδες 8)

β) Αν Κ είναι το μέσο της πλευράς ΑΒ, να αποδείξετε ότι $EZ = AK$. (Μονάδες 9)

γ) Να υπολογίσετε τη γωνία ΕΖΓ. (Μονάδες 8)



α) είναι

$$\hat{B} + \hat{A} = 180^\circ \text{ (ως ενός εναλλάξ)} \text{ ή } 120^\circ + \hat{A} = 180^\circ$$

οπότε $\hat{A} = 60^\circ$ επίσης $\hat{\Gamma} = \hat{A} = 60^\circ$

β) Η ΕΖ είναι διάμεσος του ορθογώνιου τριγώνου ΕΔΓ
 άρα $EZ = \frac{\Delta\Gamma}{2} = \frac{AB}{2} = AK$

γ) Έχουμε $\hat{E}_1 = \hat{\Gamma} = 60^\circ$ αφού $EZ = \frac{\Delta\Gamma}{2} = Z\Gamma$ οπότε στο τρίγωνο ΖΕΓ η γωνία $E\hat{Z}\Gamma = 60^\circ$.

ΘΕΜΑ 2

Δίνεται ορθογώνιο τρίγωνο $AB\Gamma$ ($A=90^\circ$) και η διχοτόμος του $B\Delta$. Από το Δ φέρουμε $\Delta E \perp B\Gamma$ που τέμνει την προέκταση της AB (προς το A) στο Z .

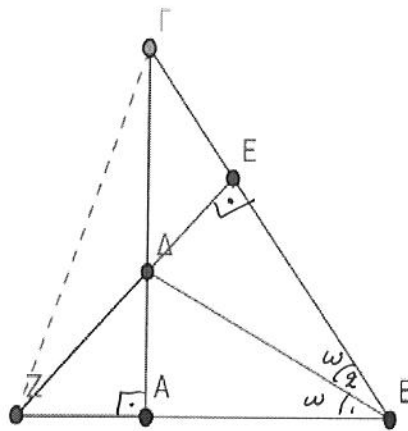
Να αποδείξετε ότι:

α) $BE=AB$,

(Μονάδες 12)

β) το τρίγωνο $B\Gamma Z$ είναι ισοσκελές.

(Μονάδες 13)



156η

α) Τα τρίγωνα $B\Delta E$ και $B\Delta Z$ έχουν:

- $\hat{E} = \hat{A} = 90^\circ$
- $B\Delta$ κοινή
- $\hat{B}_1 = \hat{B}_2 = \omega$ ($B\Delta$ διχοτόμος της \hat{B})

άρα $B\Delta E = B\Delta Z$ οπότε $BE = AB$

β) Τα τρίγωνα ΓAB και ZEB έχουν:

- $\hat{A} = \hat{E} = 90^\circ$
- $AB = BE$ (από το α)
- \hat{B} : κοινή

άρα τα τρίγωνα είναι ίσα οπότε $\Gamma B = BZ$ που σημαίνει ότι το $B\Gamma Z$ είναι ισοσκελές.